

EL PAISATGE



Nom:

Data:

Curs:

EL PAISATGE



Nom:

Data:

Curs:


EL PAISATGE DE MUNTANYA



El paisatge de muntanya es troba a gran altitud i presenta molts desnivells.


A les parts més baixes hi solen haver boscos i vegetació variada, però a mesura que es va pujant amunt, la vegetació cada vegada és més escassa, ja que el terreny és molt dur i hi fa molta fred.

EL RELLEU DE MUNTANYA




MUNTANYES

Les muntanyes són elevacions abruptes del terreny.




SERRES

Les serres són conjunts de muntanyes situades unes al costat de les altres.




SERRALADES

Un conjunt de serres rep el nom de serralada.



CINGLES

Els cingles són les pendents verticals rocoses d'una muntanya.



VALLS

Les valls són terrenys que hi ha entre dues muntanyes en forma de "V" si s'han format per l'erosió d'un riu i en forma de "U" si s'han format per una glacera. Acostumen a ser llocs molt fèrtils i ideals per a construir-hi pobles i fer-hi camps de conreu.



1 Relaciona cada element del relleu de muntanya amb el seu nom corresponent:





VALL

MUNTANYA


CINGLE

SERRALADA




2 Escriu el nom de les formes de relleu d'aquest paisatge:

VALL - MUNTANYES - RIU - CINGLE - LLAC - SERRALADA




EL CURS DEL RIU



CURS ALT

El curs alt el trobem a les muntanyes, al naixement dels rius.

Degut a la forta pendent de la muntanya l'aigua circula molt de pressa i arranca i arrossega pedres, sorra i altres materials erosionant el terreny.



CURS MITJÀ

El curs mitjà del riu el trobem a les zones de plana.

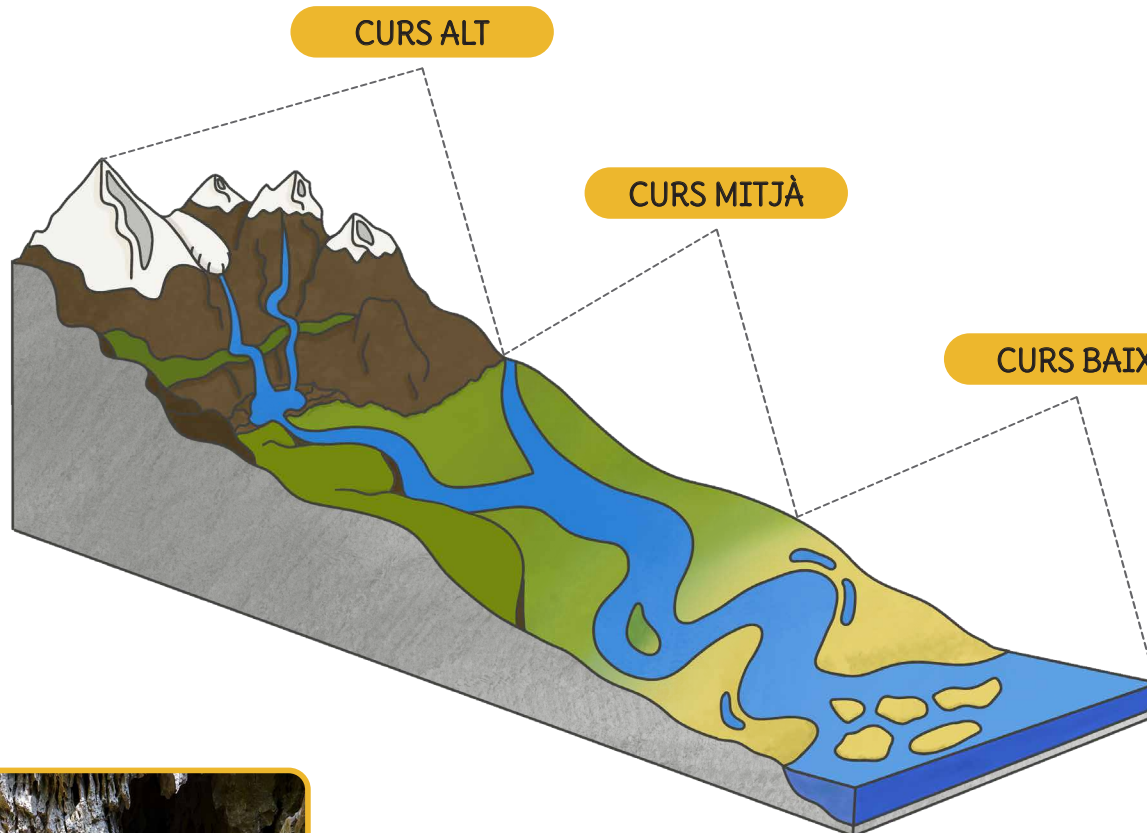
Com que el terreny és més pla l'aigua comença a circular amb menys velocitat. En aquest punt el riu ja no erosiona sinó que transporta els materials del curs alt.



CURS BAIX

El curs baix el trobem al final del riu i a la seva desembocadura.

Cap al final del riu l'aigua circula molt lentament i per això els materials que transporta es dipositen al seu pas. A vegades els materials s'acumulen i formen deltes.



Sabies que no tots els rius es troben a la superfície terrestre? També hi ha rius subterranis, els quals circulen sota terra!



10 Digues a quina fase del curs del riu correspon cada descripció:

El trobem a les zones de muntanya.

El trobem al final del riu.

L'aigua comença a circular amb menys velocitat i transporta materials.

L'aigua circula molt lentament i diposita els materials que transporta.

El trobem a les zones de plana.

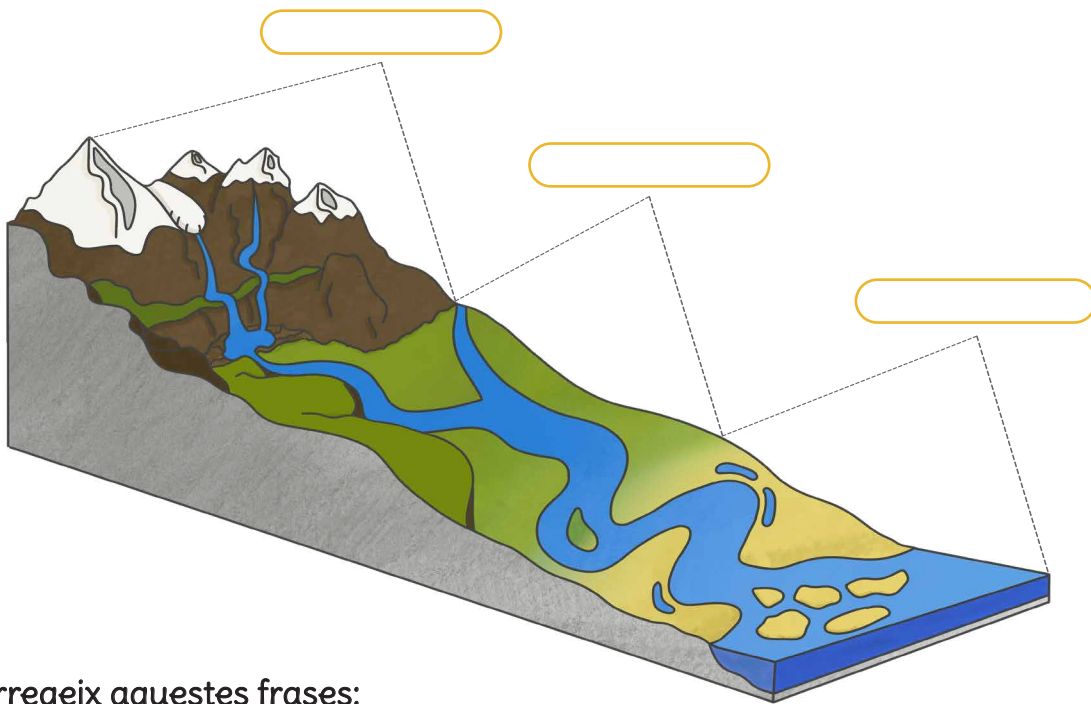
L'aigua circula molt de pressa i arranca materials al seu pas.

CURS ALT

CURS MITJÀ

CURS BAIX

11 Escribeu les parts del riu:



12 Corregeix aquestes frases:

En el curs baix hi ha molta pendent i l'aigua circula molt de pressa.

La desembocadura del riu es troba al curs alt.

Tots els rius circulen per la superfície terrestre.

ELEMENTS DELS PLÀNOLS I ELS MAPES

TÍTOL

El títol ens dona informació sobre què hi ha representat en el plànol o mapa.



Ciutat Marina Vella



Llocs d'interès

- | | |
|---------------|-------------------|
| Pàrquing | Biblioteca |
| Benzinera | Escola |
| Museu | Supermercat |
| Teatre | Església |
| Parc infantil | Mesquita |
| Parc | Punt d'informació |

Mitjans de transport

- | | |
|------|----------------|
| Port | Parada autobús |
|------|----------------|

ROSA DELS VENTS

La rosa dels vents ens ajuda a saber la direcció on es troben els punts cardinals.

ESCALA

L'escala ens serveix per calcular les distàncies reals representades en el plànol o mapa.

LLEGENDA

En els mapes i plànols es fan servir símbols per representar elements com l'alçària del terreny, els rius, els carrers, els edificis, les fronteres... A la llegenda trobem la informació necessària per poder entendre tota aquesta simbologia.

18 Observa el plànol de la ciutat de la pàgina anterior i respon a les preguntes:

Com es diu la ciutat?

.....

Quantes parades d'autobús hi ha en aquesta zona de la ciutat?

.....

Quants supermercats hi ha en aquesta zona de la ciutat?

.....

On puc trobar un parc infantil?

.....

Cap on he d'anar si vull demanar més informació sobre la ciutat?

.....

Si soc a l'escola i vull anar al port, cap on he de caminar?

.....

On es troba el teatre?

.....

Si soc al museu, quina parada d'autobús em queda més a prop?

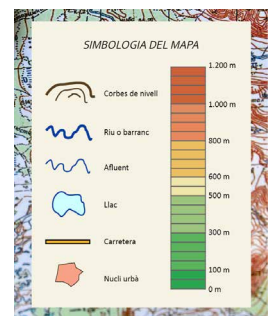
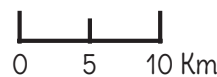
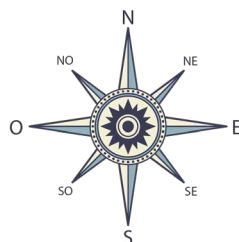
.....

Quants metres hi ha en línia recta des de la biblioteca fins a l'escola?

.....



19 Com es diuen aquests elements que podem trobar en un plànol o mapa?



EL PAISATGE



ACTIVITATS ADAPTADES

10 Relaciona:

El trobem a les zones de muntanya.

El trobem al final del riu.

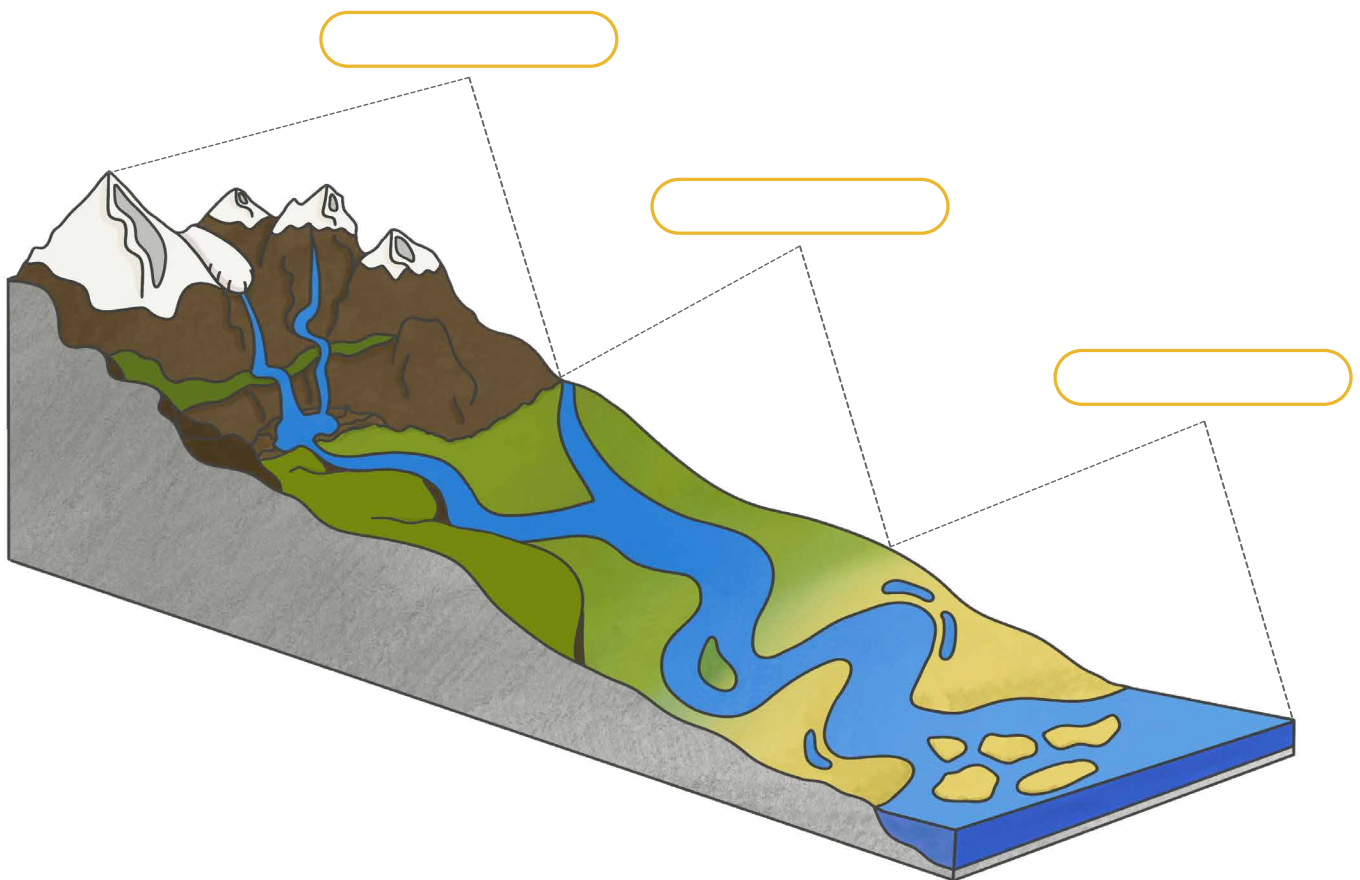
El trobem a les zones de plana.

CURS ALT

CURS MITJÀ

CURS BAIX

11 Escribe les parts del riu:



12 Aquestes frases són certes o falses?

En el curs baix hi ha molta pendent i l'aigua circula molt de pressa.

La desembocadura del riu es troba al curs alt.

Tots els rius circulen per la superfície terrestre.

18 Observa el plànol de la ciutat i respon:

Com es diu la ciutat?

.....

Quantes parades d'autobús hi ha?

.....

Quants supermercats hi ha?

.....

Si soc a l'escola i vull anar al port, cap on he de caminar?

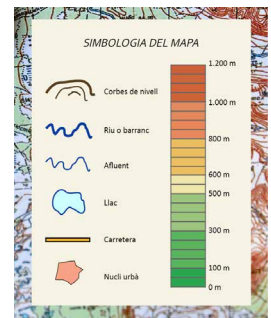
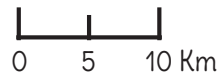
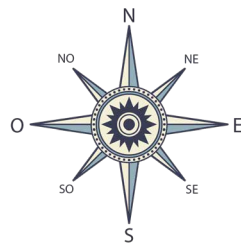
.....

Si soc al museu, quina parada d'autobús em queda més a prop?

.....

19 Com es diuen aquests elements?

LLEGENDA - ROSA DELS VENTS - ESCALA - TÍTOL



EL PAISATGE



ACTIVITATS +

A continuació trobareu un recull de fitxes complementàries per al dossier "El paisatge" de Cicle Mitjà.

Aquestes fitxes poden servir per treballar més a fons algun dels apartats o bé com a tasques extra per a aquells alumnes més ràpids i/o avançats.

Activitats de medi:

- Identifica les formes de relleu
- Les parts de la muntanya
- La ruta fins al campament (versió lliure i versió camí més curt)

Activitats de llengua:

- Sopa de lletres
- Descriu què està passant al càmping
- Completa la història
- Comprensió lectora: Maneres d'orientar-se en la natura

Activitats de matemàtiques:

- Pinta segons el codi
- Quants elements hi ha?

Activitats artístiques:

- Pinta els dibuixos
- Simetries

Solucions



EL PAISATGE

Nom:

Data:

- Llegeix la descripció de les diferents parts de la muntanya i col·loca cada nom al seu lloc.

CIM

És la part més alta de la muntanya.

VESSANT

Són els costats de la muntanya. Les pendents que uneixen el cim amb el peu.

PEU


És la part més baixa de la muntanya.

SOLELL

Vessant on toca més hores el sol. A l'hemisferi nord, que és on vivim, sempre és al sud.

OBAGA

Vessant on toca menys hores el sol. És la part més humida i freda de la muntanya. A l'hemisferi nord, que és on vivim, sempre és al nord.



- La carena és la línia divisòria de dos vessants en una muntanya o serralada. Ressegueix la carena d'aquesta muntanya.

EL PAISATGE

Nom:

Data:

■ Observa la imatge i explica què estan fent els nens i nenes del càmping.



En Pere i la Marta... ..

.....

.....

.....

.....

.....

.....

.....

.....










.....

EL PAISATGE

Nom:

Data:

Pinta segons el codi:

- | | | | | | | | | |
|------------------------|---|-----------|------------------------|---|-----------|------------------------|---|-----------|
| $3 \times ___ = 21$ |  | Blanc | $4 \times ___ = 8$ |  | Blau clar | $6 \times ___ = 54$ |  | Blanc |
| $7 \times ___ = 28$ |  | Verd clar | $2 \times ___ = 12$ |  | Marró | $9 \times ___ = 9$ |  | Groc |
| $8 \times ___ = 64$ |  | Vermell | $5 \times ___ = 25$ |  | Verd fosc | $3 \times ___ = 9$ |  | Blau fosc |



EL PAISATGE



RACONS

Aquests materials estan pensats per a ser impresos, plastificats i presentats a l'aula com a racons o activitats complementàries que els alumnes podran treballar de manera autònoma.

Racó de medi:

- El relleu del paisatge
- Formes de relleu

Racó de llengua:


- Dictats
- Sopa de lletres

Racó de matemàtiques:

- Problemes
- Troba les diferències

Racó artístic:


- Simetries
- Fes la teva brúixola





Retalla i plastifica les targetes.

Com funciona?

L'alumnat ha d'enganxar el nom corresponent de cada element del relleu i després l'ha de classificar segons on el podem trobar: a la muntanya, la plana o la costa.







PLATJA



SERRA



ILLA



TURÓ



PENYA-SEGAT



DEPRESSIÓ



BADIA



ALTIPLÀ



MUNTANYA



ESTANY




CINGLE




PENÍNSULA

RELLEU DE MUNTANYA



RELLEU DE PLANA



RELLEU DE COSTA



Retalla i plastifica les targetes.

Com funciona?

L'alumnat ha de buscar i marcar les paraules a la sopa de lletres amb un retolador. Si no troba alguna de les paraules, pot consultar la targeta amb la solució.



El paisatge 🌲

Sopa de lletres 1

SOPA DE LLETRES

M	U	N	T	A	N	Y	A	L	T	J	S	H	A
R	J	L	P	T	O	J	N	D	B	L	P	G	L
J	H	A	S	E	R	R	A	L	A	D	A	J	T
F	T	V	I	B	D	C	V	Y	V	K	I	F	I
S	C	O	H	I	L	E	F	C	A	U	D	A	P
K	N	V	W	G	U	C	P	D	Q	B	T	C	L
Z	T	A	D	B	T	I	S	R	G	N	K	I	A
P	Y	L	J	Z	S	U	Q	W	E	Z	O	J	V
Q	J	L	F	S	V	H	R	B	N	S	B	G	P
I	A	O	U	Y	A	B	N	O	Z	I	S	F	H
L	J	S	V	P	F	I	U	A	U	Z	O	I	S
D	T	G	D	U	K	J	S	H	L	P	C	Y	O
U	C	I	N	G	L	E	P	V	N	U	T	A	D
P	Z	G	W	Z	I	B	L	N	L	L	A	C	H

- | | |
|------------------------------------|------------------------------------|
| <input type="checkbox"/> MUNTANYA | <input type="checkbox"/> TURÓ |
| <input type="checkbox"/> SERRALADA | <input type="checkbox"/> DEPRESSIÓ |
| <input type="checkbox"/> CINGLE | <input type="checkbox"/> ALTIPLÀ |
| <input type="checkbox"/> VALL | <input type="checkbox"/> LLAC |



Retalla i plastifica les targetes.



El paisatge 🌲

Sopa de lletres 1

SOPA DE LLETRES

M	U	N	T	A	N	Y	A	L	T	J	S	H	A
R	J	L	P	T	O	J	N	D	B	L	P	G	L
J	H	A	S	E	R	R	A	L	A	D	A	J	T
F	T	V	I	B	D	C	V	Y	V	K	I	F	I
S	C	O	H	I	L	E	F	C	A	U	D	A	P
K	N	V	W	G	U	C	P	D	Q	B	T	C	L
Z	T	A	D	B	T	I	S	R	G	N	K	I	A
P	Y	L	J	Z	S	U	Q	W	E	Z	O	J	V
Q	J	L	F	S	V	H	R	B	N	S	B	G	P
I	A	O	U	Y	A	B	N	O	Z	I	S	F	H
L	J	S	V	P	F	I	U	A	U	Z	O	I	S
D	T	G	D	U	K	J	S	H	L	P	C	Y	O
U	C	I	N	G	L	E	P	V	N	U	T	A	D
P	Z	G	W	Z	I	B	L	N	L	L	A	C	H

- MUNTANYA
- SERRALADA
- CINGLE
- VALL

- TURÓ
- DEPRESSIÓ
- ALTIPLÀ
- LLAC





El paisatge 🌲

Troba les diferències

TROBA LES 10 DIFERÈNCIES



saviament.com

saviament.com



TROBA LES 10 DIFERÈNCIES

Troba les diferències

El paisatge 🌲



El paisatge 🌲


Troba les diferències

TROBA LES 10 DIFERÈNCIES



saviament.com

saviament.com



TROBA LES 10 DIFERÈNCIES

Troba les diferències


El paisatge 🌲

Retalla i plastifica les targetes.

Com funciona?

L'alumnat ha de completar el dibuix amb l'ajuda de la quadrícula.

Completa el dibuix



El paisatge ▲▲▲